

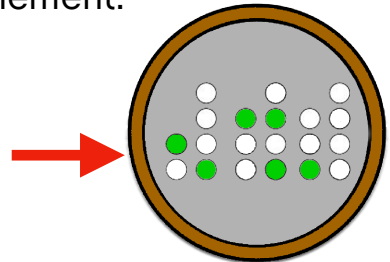
# Problème no 1



## HORLOGE FUTURISTE

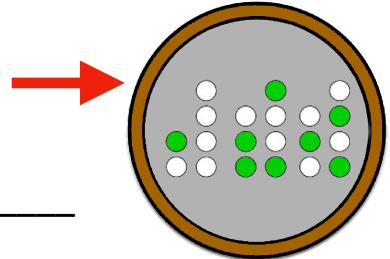
Tu es allé à Carcity pour participer à un défilé de voitures futuristes. L'horloge du compteur de ta voiture indique l'heure de curieuse façon, et les petites lumières vertes changent continuellement.

Dans l'exemple ci-contre, il est très exactement 21h45 et 10 secondes.

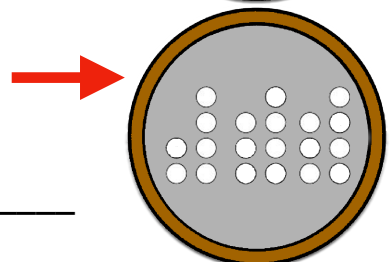


Le départ de la course était prévu exactement à l'heure indiquée ici.

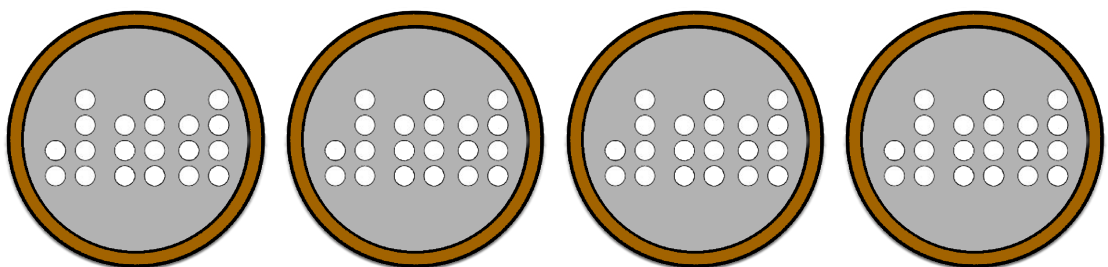
Quelle heure était-il ? (hh/mm/ss)



Qu'indiquait l'horloge lorsque tu as franchi la ligne d'arrivée 2h46 et 56 secondes plus tard ?



Essais :



Calculs :